


わが町たんけん 第1ステージ しれい書

_____組

スタートクイズだ。

左の九つの点を4本の直線で、ひと筆書きにせよ。



それではクイズを解きながら出発だ。

① この場所を目指せ。そして左の曲がれ。

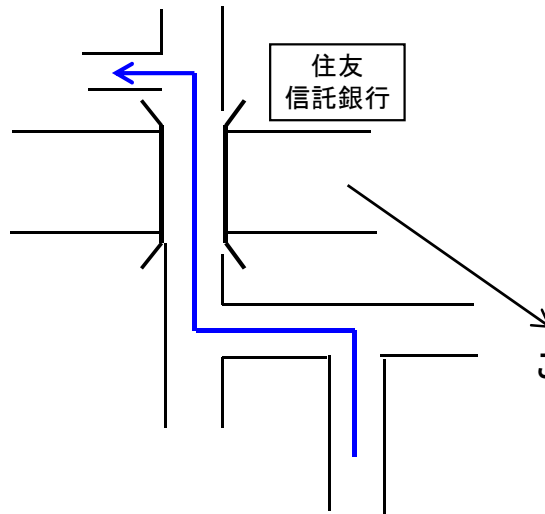


この場所の名前は？

ヒント:この旗はなんの旗？

答 _____

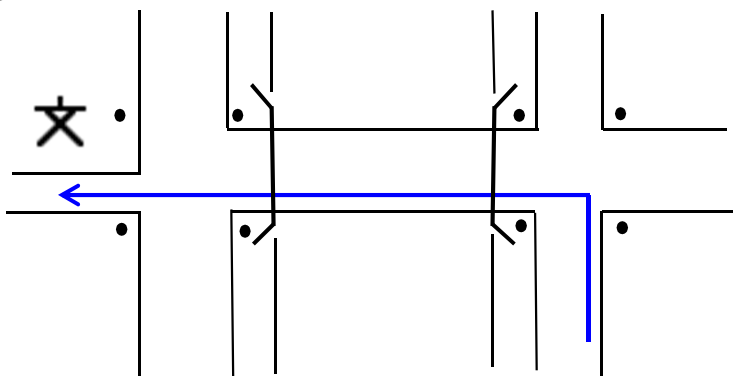
②



この道の名前は何か？

答 _____

③



このどこにある？
地図にしるしをつけろ。

④



⑤



歩測で個人賞ゲットだ。



名前	歩数	10m何歩?	1歩何m?	距離
組平均				

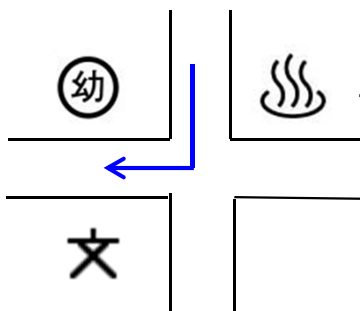
⑥



⑦



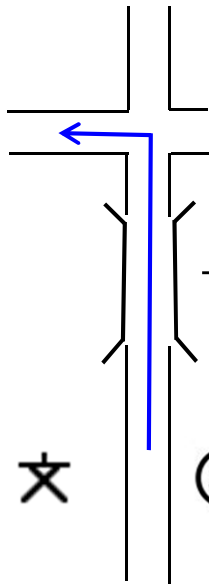
⑧



この名前は？

答 _____

⑨



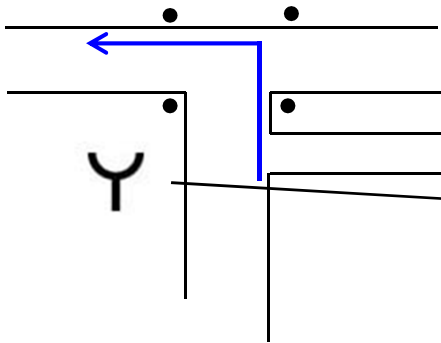
→ この橋の名前は？

答 _____

→ この名前は？

答 _____

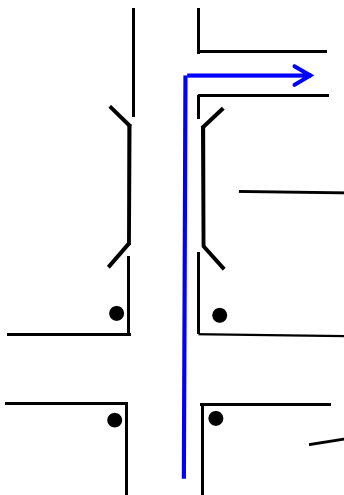
⑩



この地図記号は何？

答 _____

⑪



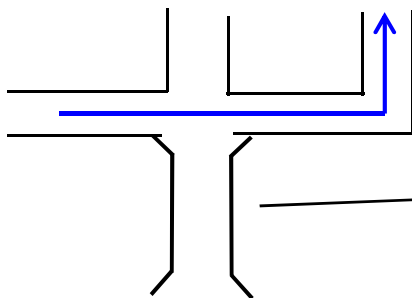
この橋の名前は？

答 _____

この場所の名前は？

答 _____

⑫



この橋の名前は？

答 _____

⑬



⑭



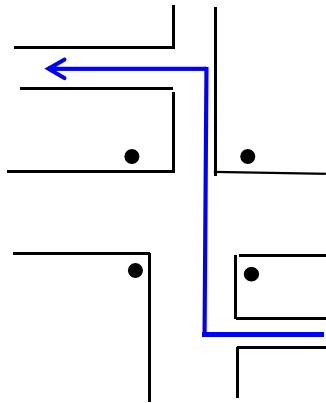
⑮



⑯



⑰



⑱



⑲ いよいよ第1ステージのゴールだ。



わが町たんけん 第2ステージ しれい書

_____組

スタートクイズ

1. 次の地図記号は何？













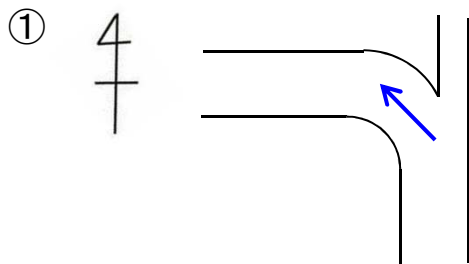
2. 次の場所へ向かうためには何番のバス乗り場からバスに乗ればよい？

千里中央 _____

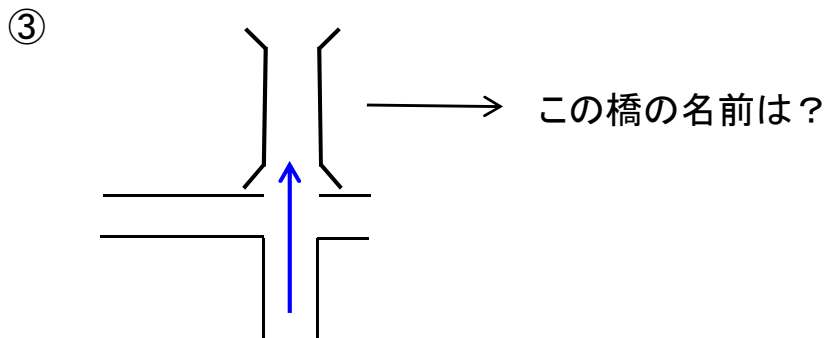
豊中 _____

JR吹田 _____

スタートクイズができれば、わが町探検第2ステージ開始だ。
まずは桃山西橋を渡れ。



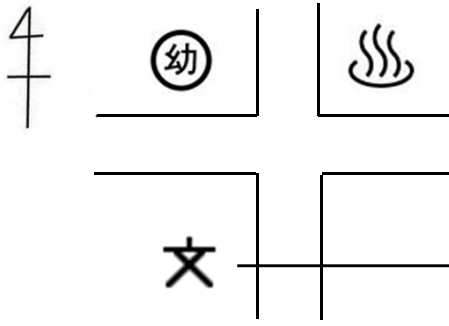
② つばき公園の西側の道を
北北西に進め。



答 _____



⑥

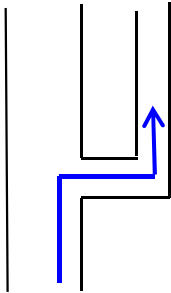


この学校の名前は？

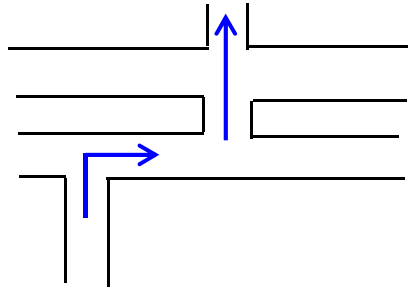
答 _____

この交差点を東へむかえ。

⑦



⑧



⑨



この歩道橋の名前は？

答 _____

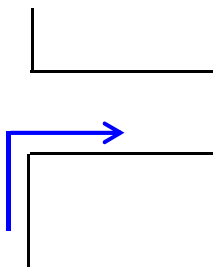
⑩



この道は

_____ ロード

⑪



⑫



⑬



⑭



これは

_____ 地蔵

⑮



⑯



⑰



これは

_____ 牛乳

_____ 販売店

⑱



⑲



⑳



㊦

この地図記号の場所を目指せ

ゴールはもうすぐだ。追跡サインを見ながら進め！